

持ち帰り禁止

受験番号

--	--	--	--	--	--

フリガナ

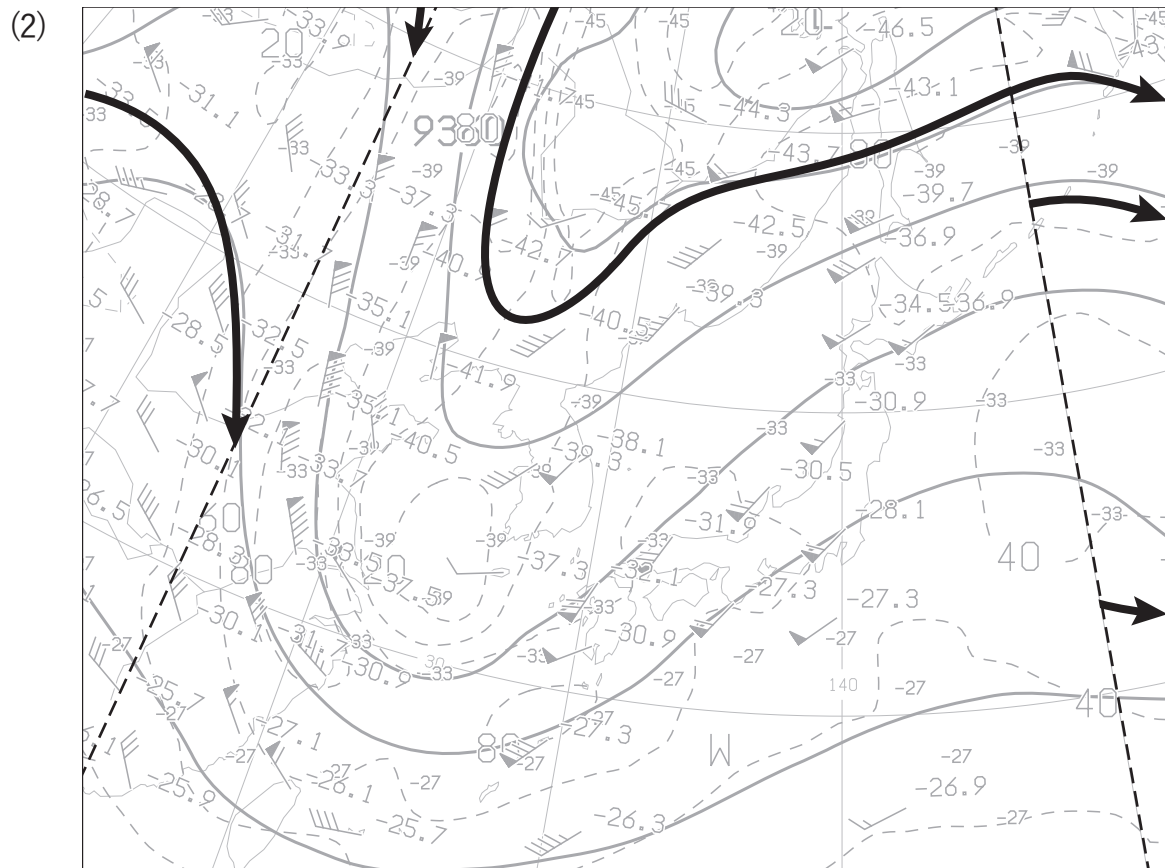
氏 名

採点欄

--

問 1

- (1) ① _____ ② _____ ③ _____
- ④ _____ ⑤ _____ ⑥ _____
- ⑦ _____ ⑧ _____ ⑨ _____
- ⑩ _____ ⑪ _____



- (3) ① 北緯 _____ ° 東経 _____ °
- ② 北緯 _____ °

切り離さないでください

この部分実線の左側に書かれた解答は採点しません

切り離さないでください

(3) ③ 前線面の高度：_____ hPa

理由：気温

理由：風向

④ 地点名：_____

理由

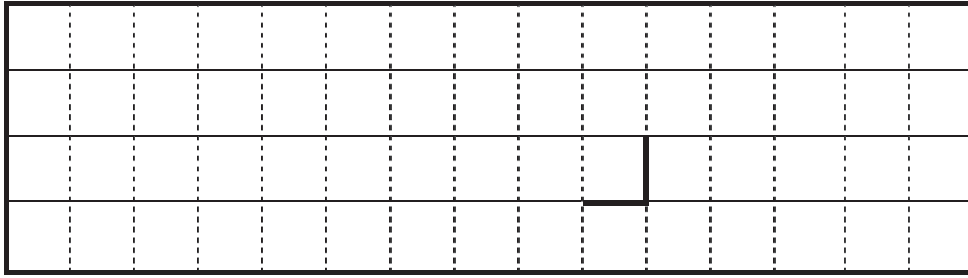
問2

(1) ① 移動方向と速さ：_____

②

切り離さないでください

(1) ③



④ _____

⑤ _____

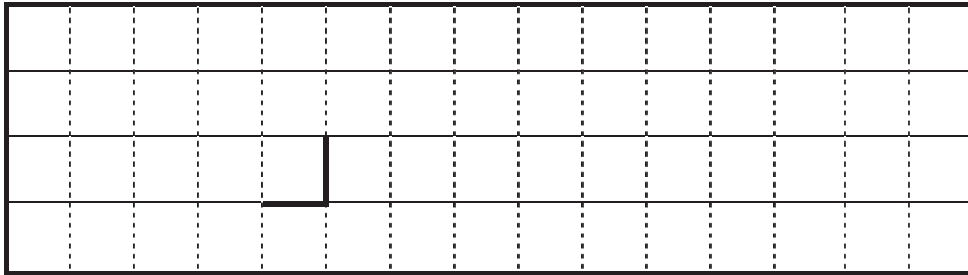
(2) ① 500hPaの低気圧中心 12時間後：北緯 _____ ° 東経 _____ °

24 時間後：北緯 _____ ° 東経 _____ °

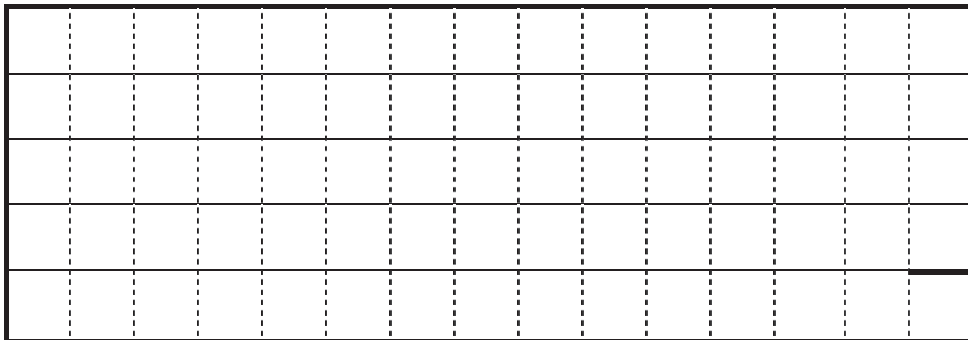
500hPa の正渦度極大 12 時間後：北緯 _____ ° 東経 _____ °

24 時間後：北緯 _____ ° 東経 _____ °

②



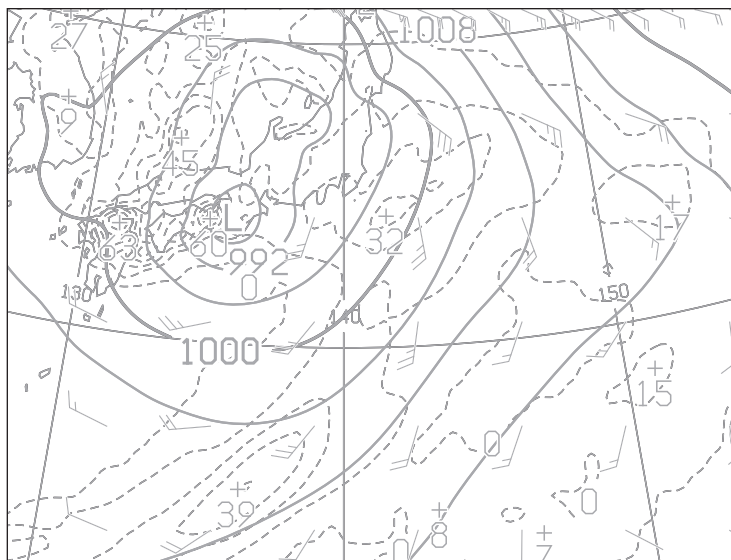
③



切り離さないでください

この部分(実線の左側)に書かれた解答は採点しません

(3)



問 3

(1) ① ②

(2) ① ② ③

②

③

④

A 10x10 grid with a thick L-shaped line forming the first row and first column. The grid is used for drawing a shape.

(3)

切り離さないでください

この部分(実線の左側)に書かれた解答は採点しません

切り離さないでください